

**Единый государственный экзамен  
по МАТЕМАТИКЕ**

**Базовый уровень**

**Инструкция по выполнению работы**

Экзаменационная работа включает в себя 20 заданий.

На выполнение работы отводится 3 часа (180 минут).

Ответы к заданиям записываются по приведённым ниже образцам в виде числа или последовательности цифр. Сначала запишите ответы к заданиям в поле ответа в тексте работы, а затем перенесите их в бланк ответов № 1 справа от номера соответствующего задания.

КИМ

Ответ: -0,8

10	-	0	,	8																
----	---	---	---	---	--	--	--	--	--	--	--	--	--	--	--	--	--	--	--	--

Бланк

Если ответом является последовательность цифр, как в приведённом ниже примере, то запишите эту последовательность в бланк ответов № 1 без пробелов, запятых и других дополнительных символов.

КИМ

Ответ:

А	Б	В	Г
4	3	1	2

9	4	3	1	2																
---	---	---	---	---	--	--	--	--	--	--	--	--	--	--	--	--	--	--	--	--

Бланк

Все бланки ЕГЭ заполняются яркими чёрными чернилами. Допускается использование гелевой, или капиллярной, или перьевой ручек. При выполнении заданий можно пользоваться черновиком. Записи в черновике не учитываются при оценивании работы. Баллы, полученные Вами за выполненные задания, суммируются. Постарайтесь выполнить как можно больше заданий и набрать наибольшее количество баллов.

**Желаем успеха!**

**Справочные материалы**

**Алгебра**

Таблица квадратов целых чисел от 0 до 99

Десятки	Единицы									
	0	1	2	3	4	5	6	7	8	9
0	0	1	4	9	16	25	36	49	64	81
1	100	121	144	169	196	225	256	289	324	361
2	400	441	484	529	576	625	676	729	784	841
3	900	961	1024	1089	1156	1225	1296	1369	1444	1521
4	1600	1681	1764	1849	1936	2025	2116	2209	2304	2401
5	2500	2601	2704	2809	2916	3025	3136	3249	3364	3481
6	3600	3721	3844	3969	4096	4225	4356	4489	4624	4761
7	4900	5041	5184	5329	5476	5625	5776	5929	6084	6241
8	6400	6561	6724	6889	7056	7225	7396	7569	7744	7921
9	8100	8281	8464	8649	8836	9025	9216	9409	9604	9801

**Свойства арифметического квадратного корня**

$$\sqrt{ab} = \sqrt{a} \cdot \sqrt{b} \text{ при } a \geq 0, b \geq 0 \quad \sqrt{\frac{a}{b}} = \frac{\sqrt{a}}{\sqrt{b}} \text{ при } a \geq 0, b > 0$$

**Корни квадратного уравнения  $ax^2 + bx + c = 0$ ,  $a \neq 0$**

$$x_1 = \frac{-b - \sqrt{b^2 - 4ac}}{2a}, \quad x_2 = \frac{-b + \sqrt{b^2 - 4ac}}{2a} \text{ при } b^2 - 4ac > 0$$

$$x = -\frac{b}{2a} \text{ при } b^2 - 4ac = 0$$

**Формулы сокращенного умножения**

$$(a+b)^2 = a^2 + 2ab + b^2$$

$$(a-b)^2 = a^2 - 2ab + b^2$$

$$a^2 - b^2 = (a+b)(a-b)$$



### Степень и логарифм

Свойства степени  
при  $a > 0$ ,  $b > 0$

$$a^{-n} = \frac{1}{a^n}$$

$$a^n \cdot a^m = a^{n+m}$$

$$\frac{a^n}{a^m} = a^{n-m}$$

$$(a^n)^m = a^{nm}$$

$$(ab)^n = a^n \cdot b^n$$

$$\left(\frac{a}{b}\right)^n = \frac{a^n}{b^n}$$

Свойства логарифма  
при  $a > 0$ ,  $a \neq 1$ ,  $b > 0$ ,  $x > 0$ ,  $y > 0$

$$a^{\log_a b} = b$$

$$\log_a a = 1$$

$$\log_a 1 = 0$$

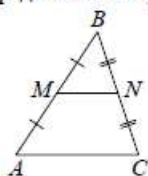
$$\log_a(xy) = \log_a x + \log_a y$$

$$\log_a\left(\frac{x}{y}\right) = \log_a x - \log_a y$$

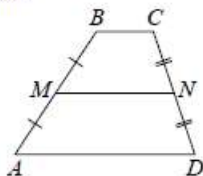
$$\log_a b^k = k \log_a b$$

### Геометрия

Средняя линия треугольника и трапеции

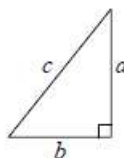


$MN$  — ср. лин.  
 $MN \parallel AC$   
 $MN = \frac{AC}{2}$



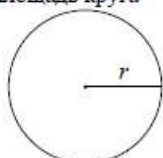
$BC \parallel AD$   
 $MN$  — ср. лин.  
 $MN \parallel AD$   
 $MN = \frac{BC + AD}{2}$

Теорема Пифагора

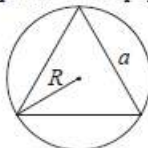


$$a^2 + b^2 = c^2$$

Длина окружности  $C = 2\pi r$   
Площадь круга  $S = \pi r^2$

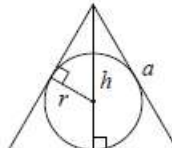


Правильный треугольник



$$R = \frac{a\sqrt{3}}{3}$$

$$S = \frac{a^2\sqrt{3}}{4}$$

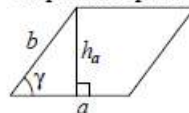


$$r = \frac{a\sqrt{3}}{6}$$

$$h = \frac{a\sqrt{3}}{2}$$

### Площади фигур

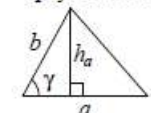
Параллелограмм



$$S = ah_a$$

$$S = ab \sin \gamma$$

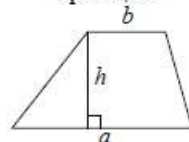
Треугольник



$$S = \frac{1}{2} ah_a$$

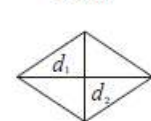
$$S = \frac{1}{2} ab \sin \gamma$$

Трапеция



$$S = \frac{a+b}{2} \cdot h$$

Ромб

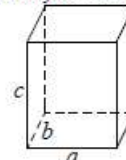


$d_1, d_2$  — диагонали

$$S = \frac{1}{2} d_1 d_2$$

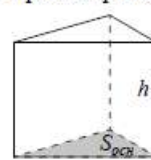
### Площади поверхностей и объёмы тел

Прямоугольный параллелепипед



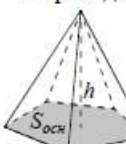
$$V = abc$$

Прямая призма



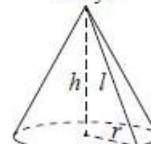
$$V = S_{осн} h$$

Пирамида



$$V = \frac{1}{3} S_{осн} h$$

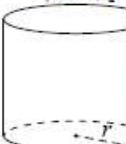
Конус



$$V = \frac{1}{3} \pi r^2 h$$

$$S_{бок} = \pi r l$$

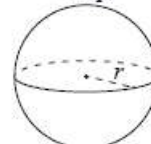
Цилиндр



$$V = \pi r^2 h$$

$$S_{бок} = 2\pi r h$$

Шар



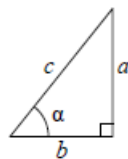
$$V = \frac{4}{3} \pi r^3$$

$$S = 4\pi r^2$$



**Тригонометрические функции**

Прямоугольный треугольник

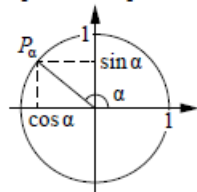


$$\sin \alpha = \frac{a}{c}$$

$$\cos \alpha = \frac{b}{c}$$

$$\operatorname{tg} \alpha = \frac{a}{b}$$

Тригонометрическая окружность

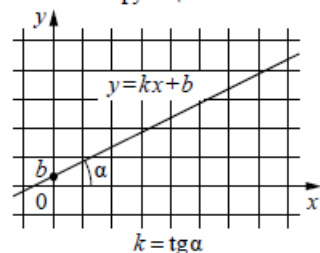
Основное тригонометрическое тождество:  $\sin^2 \alpha + \cos^2 \alpha = 1$ 

Некоторые значения тригонометрических функций

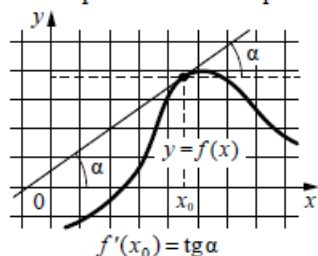
$\alpha$	радианы	0	$\frac{\pi}{6}$	$\frac{\pi}{4}$	$\frac{\pi}{3}$	$\frac{\pi}{2}$	$\pi$	$\frac{3\pi}{2}$	$2\pi$
	градусы	$0^\circ$	$30^\circ$	$45^\circ$	$60^\circ$	$90^\circ$	$180^\circ$	$270^\circ$	$360^\circ$
$\sin \alpha$		0	$\frac{1}{2}$	$\frac{\sqrt{2}}{2}$	$\frac{\sqrt{3}}{2}$	1	0	-1	0
$\cos \alpha$		1	$\frac{\sqrt{3}}{2}$	$\frac{\sqrt{2}}{2}$	$\frac{1}{2}$	0	-1	0	1
$\operatorname{tg} \alpha$		0	$\frac{\sqrt{3}}{3}$	1	$\sqrt{3}$	—	0	—	0

**Функции**

Линейная функция



Геометрический смысл производной



Ответом к каждому заданию является конечная десятичная дробь, целое число или последовательность цифр. Сначала запишите ответ к заданию в поле ответа в тексте работы, а затем перенесите в БЛАНК ОТВЕТОВ № 1 справа от номера соответствующего задания. Каждую цифру, знак «минус» и запятую пишите в отдельной клеточке в соответствии с приведёнными в бланке образцами. Единицы измерений писать не нужно.

1

Найдите значение выражения

$$\frac{3,2 - 5,7}{2,5}.$$

Ответ: \_\_\_\_\_.

2

Найдите значение выражения

$$(5 \cdot 10^5) \cdot (1,7 \cdot 10^{-3}).$$

Ответ: \_\_\_\_\_.

3

Только 90% из 30 000 выпускников города правильно решили задачу №1. Сколько выпускников из этого города правильно решили задачу №1?

Ответ: \_\_\_\_\_.

4

Мощность постоянного тока (в ваттах) вычисляется по формуле  $P = I^2 R$ , где  $I$  — сила тока (в амперах),  $R$  — сопротивление (в омах). Пользуясь этой формулой, найдите  $P$  (в ваттах), если  $R = 48$  Ом и  $I = 1,5$  А.

Ответ: \_\_\_\_\_.

5

Найдите значение выражения

$$\operatorname{tg} 13^\circ \cdot \operatorname{ctg} 13^\circ.$$

Ответ: \_\_\_\_\_.



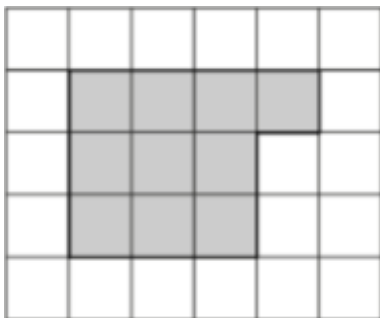
- 6 В летнем лагере на каждого участника полагается 50 г сахара в день. В лагере 244 человека. Какое наименьшее количество килограммовых упаковок сахара нужно на весь лагерь на 9 дней?

Ответ: \_\_\_\_\_.

- 7 Найдите корень уравнения  $(x - 8)^2 = (x - 2)^2$ .

Ответ: \_\_\_\_\_.

- 8 План местности разбит на клетки. Каждая клетка обозначает квадрат 1 м × 1 м. Найдите площадь участка, выделенного на плане. Ответ дайте в квадратных метрах.



Ответ: \_\_\_\_\_.

- 9 Установите соответствие между величинами и их возможными значениями: к каждому элементу первого столбца подберите соответствующий элемент из второго столбца.

ВЕЛИЧИНЫ	ЗНАЧЕНИЯ
А) площадь монитора компьютера	1) 75 500 кв. км
Б) площадь города Санкт-Петербурга	2) 1439 кв. км
В) площадь ногтя на пальце взрослого человека	3) 100 кв. мм
Г) площадь Краснодарского края	4) 1020 кв. см

В таблице под каждой буквой, соответствующей величине, укажите номер её возможного значения.

Ответ:

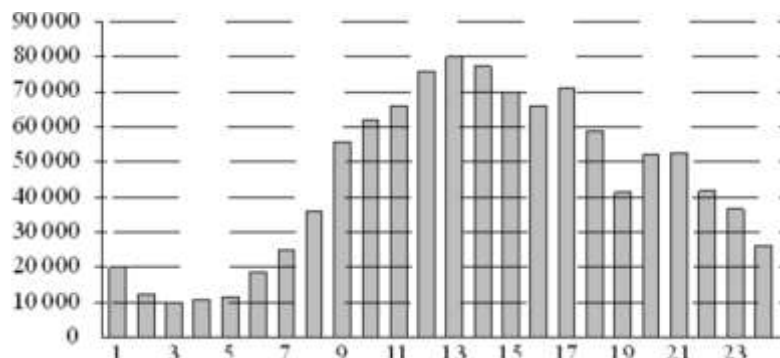
А	Б	В	Г

- 10 В фирме такси в данный момент свободно 20 машин: 8 чёрных, 7 жёлтых и 5 зелёных. По вызову выехала одна из машин, случайно оказавшаяся ближе всего к заказчику. Найдите вероятность того, что к нему приедет жёлтое такси.

Ответ: \_\_\_\_\_.



- 11** На диаграмме показано количество посетителей сайта РИА «Новости» в течение каждого часа 8 декабря 2009 года. По горизонтали указывается час, по вертикали – количество посетителей сайта на протяжении этого часа. Определите по диаграмме, в течение какого часа на сайте РИА «Новости» побывало минимальное количество посетителей.



Ответ: \_\_\_\_\_.

- 12** Михаил решил посетить Парк аттракционов. Сведения о билетах на аттракционы представлены в таблице. Некоторые билеты позволяют посетить сразу два аттракциона.

Номер билета	Аттракционы	Стоимость (руб.)
1	Комната смеха	300
2	Комната страха, комната смеха	400
3	Автодром, комната смеха	350
4	Колесо обозрения	250
5	Колесо обозрения, автодром	300
6	Автодром	100

Пользуясь таблицей, выберите билеты так, чтобы Михаил посетил все четыре аттракциона: колесо обозрения, комнату страха, комнату смеха, автодром, а суммарная стоимость билетов не превышала 750 рублей.

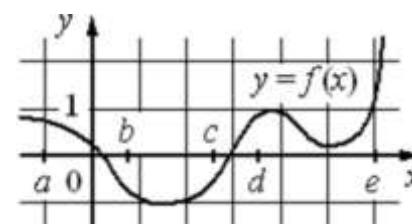
В ответе укажите какой-нибудь один набор номеров билетов без пробелов, запятых и других дополнительных символов.

Ответ: \_\_\_\_\_.

- 13** Ящик, имеющий форму куба с ребром 20 см без одной грани, нужно покрасить со всех сторон снаружи. Найдите площадь поверхности, которую необходимо покрасить. Ответ дайте в квадратных сантиметрах.

Ответ: \_\_\_\_\_.

- 14** На рисунке изображён график функции  $y = f(x)$ . Точки  $a, b, c, d$  и  $e$  задают на оси  $Ox$  интервалы. Пользуясь графиком, поставьте в соответствие каждому интервалу характеристику функции или её производной.



ИНТЕРВАЛЫ

- А)  $(a; b)$   
 Б)  $(b; c)$   
 В)  $(c; d)$   
 Г)  $(d; e)$

ХАРАКТЕРИСТИКИ ФУНКЦИИ  
ИЛИ ПРОИЗВОДНОЙ

- 1) значения функции  
положительны в каждой точке  
интервала  
 2) значения производной функции  
отрицательны в каждой точке  
интервала  
 3) значения производной функции  
положительны в каждой точке  
интервала  
 4) значения функции  
отрицательны в каждой точке  
интервала

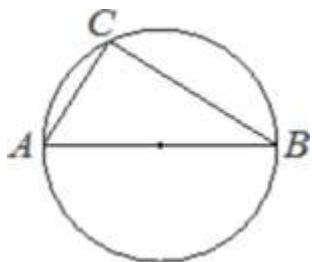
В таблице под каждой буквой укажите соответствующий номер.

Ответ:

А	Б	В	Г

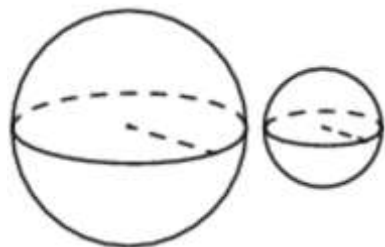


- 15** На окружности отмечена точка  $C$ . Отрезок  $AB$  — диаметр окружности,  $AC = 9$ ,  $BC = 12$ . Найдите радиус окружности.



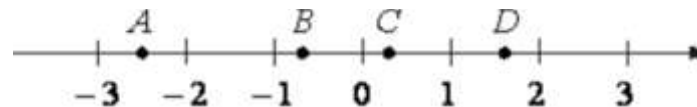
Ответ: \_\_\_\_\_.

- 16** Даны два шара с радиусами 8 и 2. Во сколько раз объём большего шара больше объёма другого?



Ответ: \_\_\_\_\_.

- 17** На координатной прямой отмечены точки  $A$ ,  $B$ ,  $C$  и  $D$ .



Число  $m$  равно  $\sqrt{0,15}$ .

Установите соответствие между указанными точками и числами в правом столбце, которые им соответствуют.

ТОЧКИ	ЧИСЛА
$A$	1) $-\frac{1}{m}$
$B$	2) $m^2$
$C$	3) $4m$
$D$	4) $m - 1$

Впишите в приведённую в ответе таблицу под каждой буквой соответствующий числу номер.

Ответ:

$A$	$B$	$C$	$D$





- 18** Если спортсмен, участвующий в олимпийских играх, установил мировой рекорд, то его результат является и олимпийским рекордом. Выберите утверждения, которые верны при приведённом условии.

- 1) Если результат спортсмена, участвующего в Олимпийских играх, не является олимпийским рекордом, то он не является и мировым рекордом.
- 2) Если результат спортсмена, участвующего в Олимпийских играх, не является олимпийским рекордом, то он является мировым рекордом.
- 3) Если результат спортсмена, участвующего в Олимпийских играх, является мировым рекордом, то он не является олимпийским рекордом.
- 4) Если спортсмен, участвующий в Олимпийских играх, установил мировой рекорд в беге на 100 м, то его результат является и олимпийским рекордом.

В ответе запишите номера выбранных утверждений без пробелов, запятых и других дополнительных символов.

Ответ: \_\_\_\_\_.

- 19** Найдите трёхзначное натуральное число, которое при делении и на 4, и на 15 даёт равные ненулевые остатки, и средняя цифра в записи которого является средним арифметическим крайних цифр. В ответе укажите какое-нибудь одно такое число.

Ответ: \_\_\_\_\_.

- 20** Во всех подъездах дома одинаковое число этажей, и на всех этажах одинаковое число квартир. При этом число этажей в доме больше числа квартир на этаже, число квартир на этаже больше числа подъездов, а число подъездов больше одного. Сколько этажей в доме, если всего в нём 455 квартир?

Ответ: \_\_\_\_\_.

### О проекте «Пробный ЕГЭ каждую неделю»

Данный ким составлен командой всероссийского волонтерского проекта «ЕГЭ 100 баллов» <https://vk.com/ege100ballov> и безвозмездно распространяется для любых некоммерческих образовательных целей.

### Нашли ошибку в варианте?

Напишите нам, пожалуйста, и мы обязательно её исправим!

Для замечаний и пожеланий: [https://vk.com/topic-10175642\\_35994898](https://vk.com/topic-10175642_35994898)  
(также доступны другие варианты для скачивания)

### СОСТАВИТЕЛЬ ВАРИАНТА:

<b>ФИО:</b>	Евгений Пифагор
<b>Предмет:</b>	Математика
<b>Стаж:</b>	6 лет репетиторской деятельности Основатель проекта Школа Пифагора
<b>Регалии:</b>	Трижды победитель олимпиады по высшей математике среди всех студентов Тольяттинского государственного университета
<b>Аккаунт ВК:</b>	<a href="https://vk.com/eugene10">https://vk.com/eugene10</a>
<b>Сайт и доп. информация:</b>	<a href="https://youtube.com/ШколаПифагора">https://youtube.com/ШколаПифагора</a>



**Система оценивания экзаменационной работы по математике  
(базовый уровень)**

Правильное решение каждого из заданий 1–20 оценивается 1 баллом. Задание считается выполненным верно, если экзаменуемый дал правильный ответ в виде целого числа или конечной десятичной дроби, или последовательности цифр.

№ задания	Ответ
1	-1
2	850
3	27000
4	108
5	1
6	110
7	5
8	10
9	4231
10	0,35
11	3
12	246 или 25
13	2000
14	2431
15	7,5
16	64
17	1423
18	14
19	123 или 543 или 963
20	13

